



TienPhong Bank


**ĐỀ THI IQ**  
Thời gian: 20 phút  
20 câu hỏi

Họ và tên : ..... Ngày thi:.....  
Ngày sinh : .....  
Số CMTND : .....  
Số báo danh : .....

**PHẦN DÀNH CHO HỘI ĐỒNG THI**

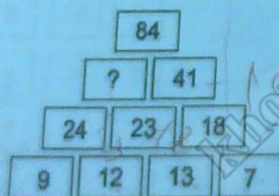
Chữ ký giám thị	Số phách	Điểm thi

1. Hình nào thừa trong các hình dưới đây:



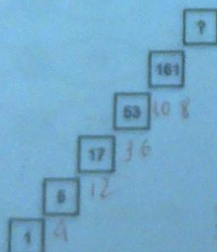
- a. D  
b. G  
c. F  
d. B

2. Điền số phù hợp vào ô trống dưới đây:




- a. 45  
b. 46  
c. 47  
d. 48

3. Tìm số còn thiếu trong dãy số dưới đây:





4. Có bao nhiêu hình tam giác ở hình bên dưới :




- a. 40
- b. 42
- ☒ c. 45
- d. 47

5. Tìm số còn thiếu:

2	10	4
3	17	5
1	?	6

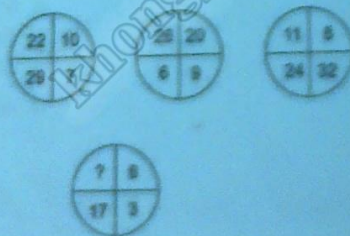
- ☒ a. 8
- b. 9
- c. 10
- d. 11

6. Điền số thích hợp vào ô còn trống:



- a. 23
- b. 37
- c. 43
- ☒ d. 57

7. Thay thế các dấu hỏi bằng các số phù hợp:



- a. 6
- b. 10
- ☒ c. 14
- d. 18

8. Tìm số còn thiếu:



- ☒ a. 1
- b. 2
- c. 3
- d. 4

9. Số nào sẽ thay thế dấu hỏi:



8	10	5
8	14	9
3	7	?

- a. 6
- b. 7
- ☒ c. 8
- d. 9

10. Điền số còn thiếu vào ô có dấu hỏi trong chuỗi hình

1	3	2	?	3	7	4	9	5
---	---	---	---	---	---	---	---	---

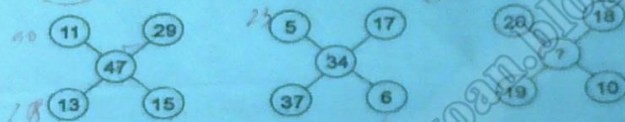
- a. 3
- b. 4
- ☒ c. 5
- d. 6

11. Tìm số phù hợp điền vào ô trống:

4	3	2	8	6
7	1	6	5	?

- a. 6
- b. 7
- c. 8
- ☒ d. 9

12. Tìm số thay thế dấu hỏi:



- a. 18
- ☒ b. 19
- c. 20
- d. 21

13. Số nào sẽ thay thế dấu hỏi:

8	10	5
8	14	9
3	7	?

- a. 6
- b. 7
- ☒ c. 8
- d. 9

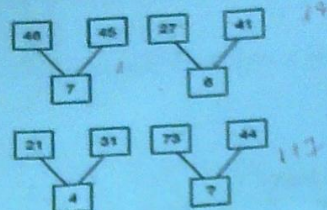
14. Thay thế dấu hỏi bằng số phù hợp:

81	54	63
46	65	12
13	48	71
61	?	63

- a. 48
- ☒ b. 49
- c. 50
- d. 51

15. Tìm số còn thiếu dưới đây:





- a. 6
- b. 7
- c. 8
- d. 9

16. Điền số còn thiếu vào ô trống:

3	5	6	2	1	7
6	4	4	5	9	5
8	0	4	0		5

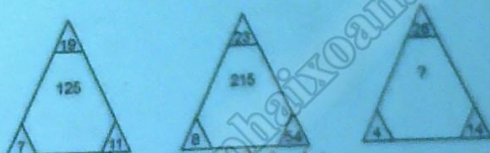
- a. 9
- b. 10
- c. 11
- d. 12

17. Điền số thích hợp vào ô trống:

5	1	8	6	8	2
3	2	7	4	6	8
5	2		4	8	6

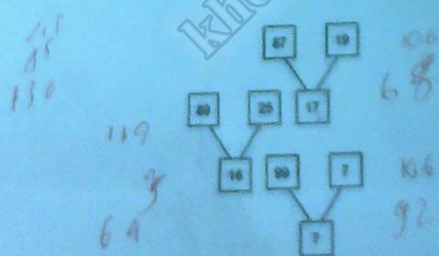
- a. 4
- b. 5
- c. 6
- d. 7

18. Tìm số còn thiếu



- a. 89
- b. 90
- c. 91
- d. 92

19. Thay thế dấu hỏi bằng số phù hợp:



- a. 22
- b. 23
- c. 24
- d. 25

20. Điền số thích hợp vào ô trống:

17	13	30	11	19
6	3	9	5	4
23	18	39	10	23
2	11	13	1	
21	5	26	16	11

- a. 9
- b. 10
- c. 11
- d. 12